





1	<p>Jaki płyn należy wlewać do zbiornika takiego, jak przedstawiony na zdjęciu?</p> <ul style="list-style-type: none"><li>a) paliwo – benzynę bezołowiową,</li><li>b) paliwo – olej napędowy,</li><li>c) płyn do chłodzenia silnika.</li></ul>	
2	<p>W jaki sposób należy dokonać pomiaru głębokości bieżnika?</p> <ul style="list-style-type: none"><li>a) mierząc szerokość części „A”,</li><li>b) mierząc szerokość części „B”,</li><li>c) żaden z powyższych.</li></ul>	
3	<p>Co należy wlewać do zbiornika widocznego na rysunku</p> <ul style="list-style-type: none"><li>a) paliwo stosowane w tym rodzaju pojazdu,</li><li>b) płyn chłodzący silnik, lecz nie wodę z kranu,</li><li>c) dodatek AdBlue, będący roztworem mocznika w wodzie.</li></ul>	

4	<p>Czy zaznaczona na zdjęciu tarcza hamulcowa :</p> <ul style="list-style-type: none"><li>a) zużywa się i co pewien czas jej działanie musi być kontrolowane,</li><li>b) nie zużywa się i nie ma potrzeby kontrolować sprawności jej działania,</li><li>c) zużywa się jedynie przy niewłaściwej eksploatacji i co pewien czas jej działanie musi być kontrolowane.</li></ul>	
5	<p>Co znajduje się w obudowie zaznaczonej na zdjęciu?</p> <ul style="list-style-type: none"><li>a) mechanizm różnicowy,</li><li>b) mechanizm zmiany biegów,</li><li>c) silnik.</li></ul>	
6	<p>Do czego służy wskaźnik pokazany na zdjęciu?</p> <ul style="list-style-type: none"><li>a) do odczytu chwilowej prędkości pojazdu,</li><li>b) do odczytu temperatury wewnątrz kabiny kierowcy,</li><li>c) do odczytu chwilowej prędkości obrotowej silnika.</li></ul>	
7	<p>Do czego służy przełącznik zaznaczony na zdjęciu?</p> <ul style="list-style-type: none"><li>a) do włączania kierunkowskazów oraz innych świateł pojazdu,</li><li>b) do regulacji położenia kierownicy,</li><li>c) jedynie do włączania świateł, lecz nie do kierunkowskazów.</li></ul>	

8	<p>Do czego służy dźwignia umieszczona w kabinie kierowcy którą pokazano na zdjęciu?</p> <ul style="list-style-type: none"><li>a) do zmiany biegów (przełożeń między silnikiem a kołami napędowymi),</li><li>b) do regulacji położenia lusterek,</li><li>c) do regulacji siedzenia kierowcy.</li></ul>	
9	<p>Do czego służy wskaźnik pokazany na zdjęciu?</p> <ul style="list-style-type: none"><li>a) do odczytu wilgotności wewnątrz pojazdu,</li><li>b) do odczytu temperatury wewnątrz kabiny kierowcy,</li><li>c) do odczytu chwilowej prędkości obrotowej silnika.</li></ul>	